

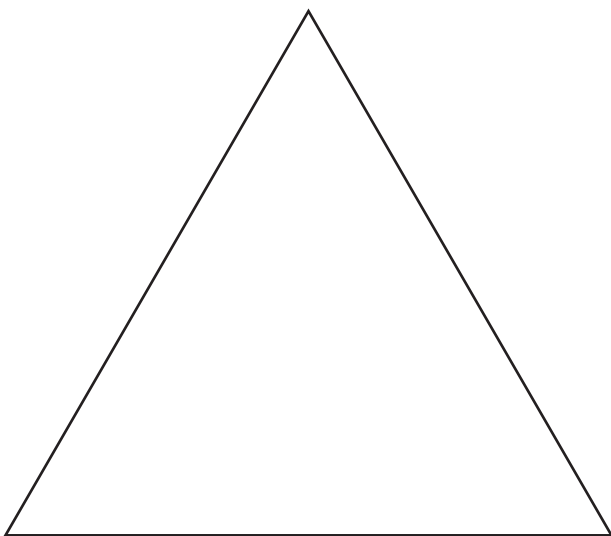




Figuren halbieren

Anweisung

Halbiere die Figuren.

Zeichne zwei Möglichkeiten ein.





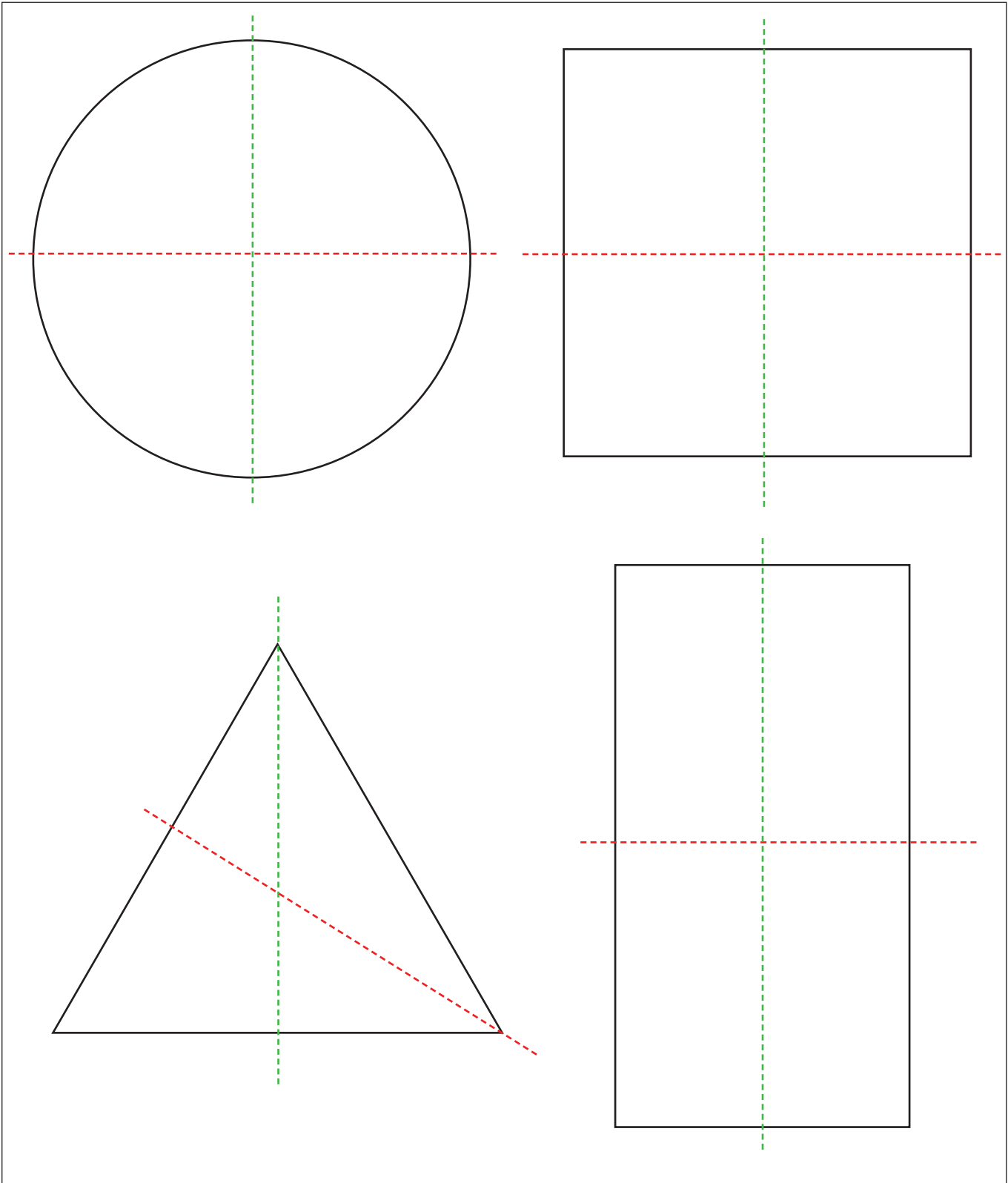
Figuren halbieren

Lösung

Anweisung

Halbiere die Figuren.

Zeichne zwei Möglichkeiten ein.

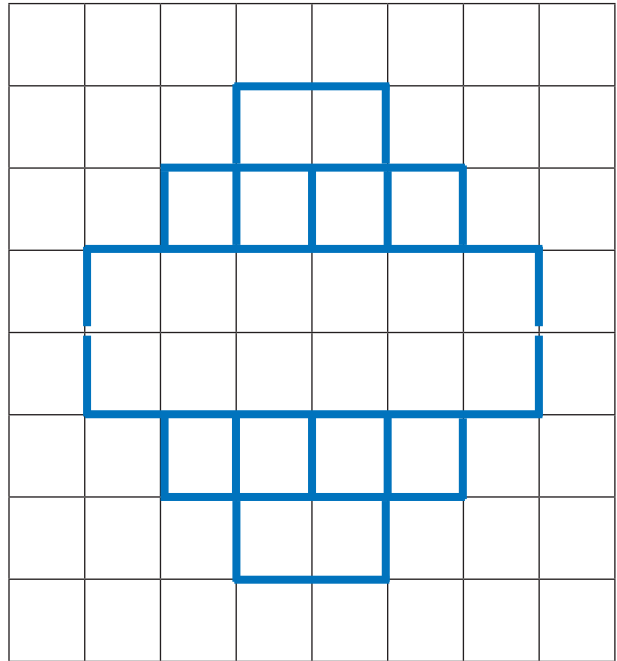
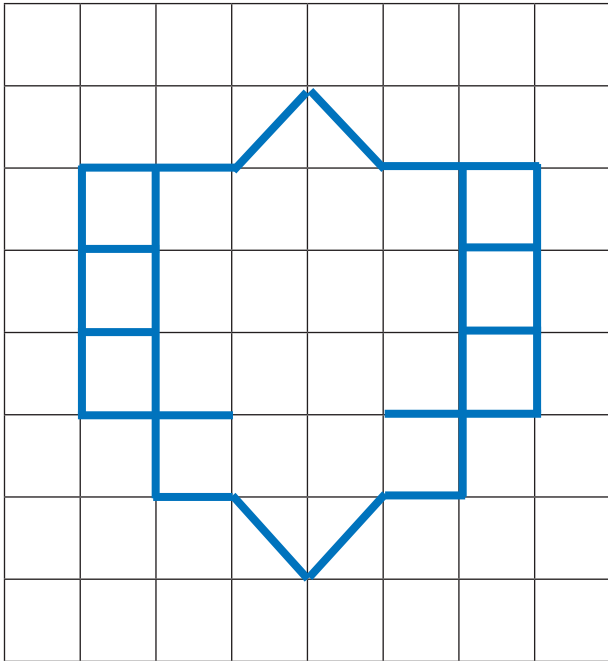




Spiegelachsen

Anweisung

Zeichne die Spiegelachsen ein.
Kontrolliere mit dem Spiegel.



OMA

EHE

OHO

ABBA

AXA

MAMA

OTTO

UHU

O

H

Z

D

L

E

X

B

R

V

Q

A

C

K

M

P

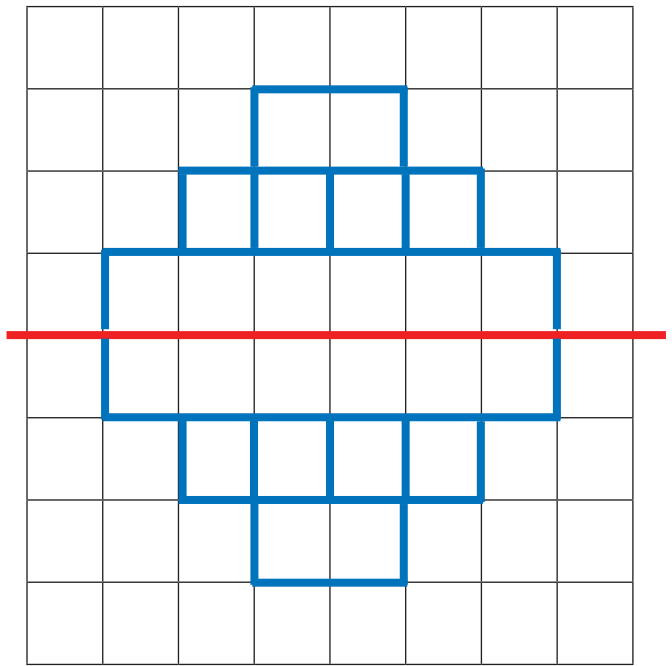
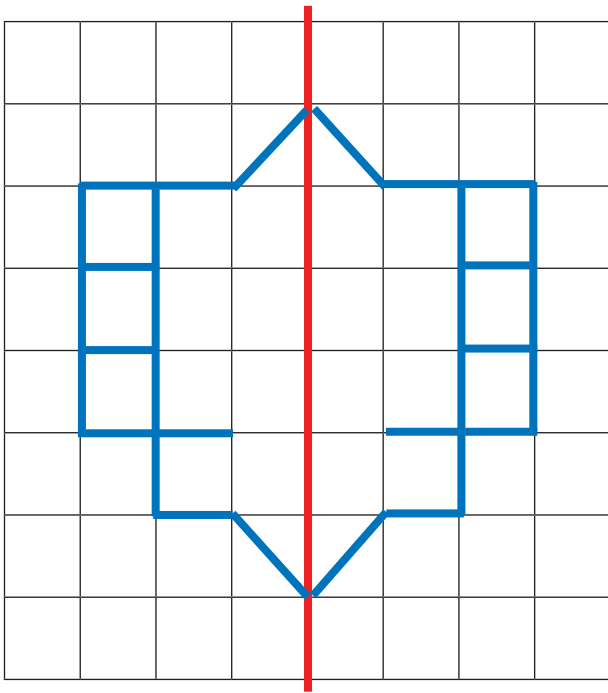


Spiegelachsen

Lösung

Anweisung

Zeichne die Spiegelachsen ein.
Kontrolliere mit dem Spiegel.



OMA

~~EHE~~

~~OHO~~

ABBA

~~AXA~~

MAMA

~~OTTO~~

~~UHU~~

~~O~~

~~H~~

Z

~~D~~

L

~~E~~

~~X~~

~~B~~

R

~~V~~

Q

~~A~~

~~C~~

K

~~M~~

P



Begriffe anwenden

Anweisung

Beantworte die Fragen.

Verwende die geometrischen Begriffe.

| | | |
|---|--|--|
| <p>Zeichne den Körper ohne Ecken und ohne Kanten. Beschrifte ihn.</p> | <p>Ein Rechteck ist immer grösser als ein Quadrat.</p>  | <p>Wie viele Spiegelachsen hat das Symbol?</p>  |
| | <p><input type="checkbox"/> richtig <input type="checkbox"/> falsch</p> | |
| <p>Wie heisst diese Figur?</p>  | <p>Um welche geometrische Figur handelt es sich?</p>  | <p>Diese Figur ist eine Kugel.</p>  |
| | | <p><input type="checkbox"/> richtig <input type="checkbox"/> falsch</p> |
| <p>Wie viele Spiegelachsen hat das Dreieck?</p>  | <p>Welche Körperform hat die Erde?</p>  | <p>Was für eine Körperform hat das Cornetto Eis?</p>  |
| <p>3 <input type="checkbox"/> 1 <input type="checkbox"/></p> | | |




Begriffe anwenden

Lösung

Anweisung

Beantworte die Fragen.

Verwende die geometrischen Begriffe.

| | | |
|---|--|--|
| <p>Zeichne den Körper ohne Ecken und ohne Kanten. Beschrifte ihn.</p>  | <p>Ein Rechteck ist immer grösser als ein Quadrat.</p>  | <p>Wie viele Spiegelachsen hat das Symbol?</p>  |
| <p>Kugel</p> | <p><input type="checkbox"/> richtig <input checked="" type="checkbox"/> falsch</p> | <p>1</p> |
| <p>Wie heisst diese Figur?</p>  | <p>Um welche geometrische Figur handelt es sich?</p>  | <p>Diese Figur ist eine Kugel.</p>  |
| <p>Sechseck</p> | <p>Quadrat</p> | <p><input type="checkbox"/> richtig <input checked="" type="checkbox"/> falsch</p> |
| <p>Wie viele Spiegelachsen hat das Dreieck?</p>  | <p>Welche Körperform hat die Erde?</p>  | <p>Was für eine Körperform hat das Cornetto Eis?</p>  |
| <p>3 <input type="checkbox"/> 1 <input checked="" type="checkbox"/></p> | <p>Kugel</p> | <p>Kegel</p> |